

TAREAS DE MATEMÁTICA



Queridas familias: que alegría volver a encontrarnos. Espero que hayan descansado y tomado fuerzas para esta segunda mitad del año.

En esta nueva entrega haremos un repaso de lo aprendido en el primer cuatrimestre.

No olviden que es muy importante trabajar siempre con material concreto.

Recuerden que, al momento de trabajar en el cuaderno, los ALUMNOS deberán escribir la fecha del día, en letra de molde minúscula y al finalizarla, el nombre completo de la misma manera.

Ej: Hoy es martes 28 de julio.

Pedro García

Chicos, la seño quiere ver cómo realizaron la siguiente actividad de la entrega anterior. Por favor envíame una foto a mi mail. Gracias.

COMPLETA.

★ 3 DECENAS = UNIDADES

★ 40 UNIDADES = DECENAS

★ 6 DECENAS = UNIDADES

★ 70 UNIDADES = DECENAS

★ 9 DECENAS = UNIDADES

¿CUÁNTAS BOLSITAS NECESITAMOS PARA FORMAR...? DIBÚJALAS.

4 D =

7 D =

3 D =

9 D =



1° "A": m.decima@boisdron.redfasta.edu.ar

1° "B": p.gonzalezmoreno@boisdron.redfasta.edu.ar

1° "C": f.gomezbelo@boisdron.redfasta.edu.ar

¡RECORDAMOS LOS APRENDIDO!

ACTIVIDAD ORAL:

Recordar de manera oral previamente a cada actividad, lo aprendido en la primera mitad del año. Recuerden trabajar con material concreto siempre

ACTIVIDAD PARA EL CUADERNO:

¡RECUERDO LO APRENDIDO!

COMPLETA LAS SERIES CON LOS NÚMEROS QUE FALTAN.

0	1				5				9
0		20				70			90

COMPLETA CON EL NÚMERO SIGUIENTE.

8	→	
---	---	--

2	→	
---	---	--

5	→	
---	---	--

3	→	
---	---	--

ESCRIBE EL NÚMERO ANTERIOR.

	←	9
--	---	---

	←	4
--	---	---

	←	3
--	---	---



	←	6
--	---	---




ESCRIBE EL NÚMERO QUE ESTÁ ENTRE.

0		2	3		5
8		10	5		7

RESUELVE.

JUANITA TIENE QUE 5  Y 3  ¿CUÁNTAS GOLOSINAS TIENE EN TOTAL?





RTA:

JULIÁN COMPRÓ 9  Y SE COMIÓ 3. ¿CUÁNTOS LE QUEDAN?

RTA:



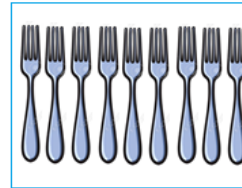
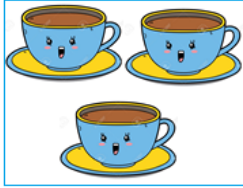
COMPLETA LAS CANTIDADES Y LUEGO ESCRIBE EN EL CÍRCULO LOS SIGNOS >, < O =.



6

>

4



ORDENA Y RESUELVE.

$5 + 3 + 1 =$

$4 + 3 + 0 =$

$9 - 6 =$

$7 - 5 =$

.....
+
.....

.....
+
.....

.....
-
.....

.....
-
.....

DICTADO DE NÚMEROS. <https://youtu.be/iJfH8MCjwv0>

ESCRIBE EL NÚMERO Y EL NOMBRE.

	NÚMERO	NOMBRE
	4	CUATRO - cuatro
		
		
		
		

COMPLETA LAS DECENAS QUE FALTAN.



ORDENA DE MAYOR A MENOR LAS SIGUIENTES DECENAS.

70 - 10 - 80 - 40 - 60 - 20 - 50 - 30

AHORA DE MENOR A MAYOR.

70 - 10 - 80 - 40 - 60 - 20 - 50 - 30

COMPLETA CON LAS DECENAS VECINAS.



COMPARA LAS CANTIDADES.

	<				
30	<	60			



COMPLETA Y DIBUJA LAS CANTIDADES.

10 UNIDADES	1 DECENA	DIEZ	10
20 UNIDADES	2 DECENAS	VEINTE	20
30 UNIDADES	3 DECENAS	TREINTA	_____
40 UNIDADES	4 DECENAS	CUARENTA	_____
50 UNIDADES	5 DECENAS	CINCUENTA	_____
60 UNIDADES	6 DECENAS	SESENTA	_____
70 UNIDADES	7 DECENAS	SETENTA	_____
80 UNIDADES	8 DECENAS	OCHENTA	_____
90 UNIDADES	9 DECENAS	NOVENTA	_____

ORDENA Y RESUELVE.

$$20 + 40 + 30 =$$

D	U
.....
.....
.....
.....

$$50 + 10 + 20 =$$

D	U
.....
.....
.....
.....

$$60 - 40 =$$

D	U
.....
.....
.....

$$80 - 50 =$$

D	U
.....
.....
.....



COMPLETA SEGÚN CORRESPONDA.

VEINTE

40

OCHENTA

30

RESUELVE LOS PROBLEMAS.

LA ABUELITA FUE AL SUPER Y COMPRÓ 2 DECENAS DE



Y 5 DECENAS DE



¿CUÁNTAS FRUTAS COMPRÓ EN TOTAL?

	D	U
<input type="text"/>
.....
.....

RTA:.....

VALENTÍN TENÍA 80



Y LE REGALÓ 5 DECENAS A JULIÁN.

¿CUÁNTOS



LE QUEDAN EN TOTAL?

	D	U
<input type="text"/>
.....
.....

RTA:.....